

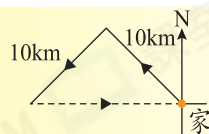
## HKAT 經典試題

爸爸駕車從家向西北方行駛了10km，再轉向西南方又行駛了10km。如果他想以最短的路程返回家，他應向哪個方向駕駛？

- A. 東                      B. 西                      C. 東南                      D. 西南

Step  
by  
Step

- 畫出行駛路線及方向標示。
- 畫出最短路線，應向東方行駛。



## HKAT 題型特訓

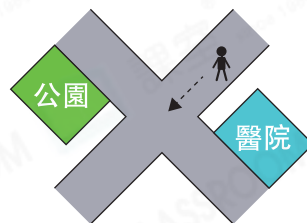
1. 如右圖，售票處在海洋館的西方，餐廳在售票處的哪一方？

- A. 東                      B. 西  
C. 東南                      D. 西南



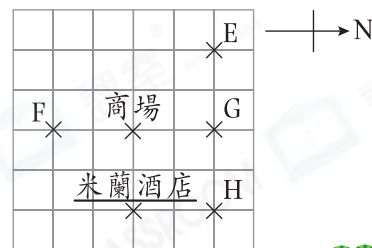
2. 右圖中，思綺正沿小徑向東北方走，到了路口時，她應向哪個方向走才能到達公園？

- A. 東                      B. 西  
C. 東南                      D. 西北



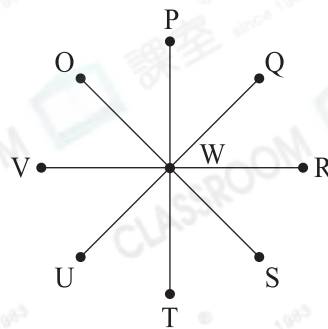
3. 世昌約了朋友們一起去吃自助餐，目的地是米蘭酒店。行了一段時間後，他們測得商場在他們的東南方。他們當時是在地圖中的哪一個位置？

- A. E                      B. F  
C. G                      D. H



4. 如果P在T的東北方，U在Q的哪一方？

- A. 西南  
B. 西  
C. 東北  
D. 東



可用《HKAT 解題技巧》的逆向思考