

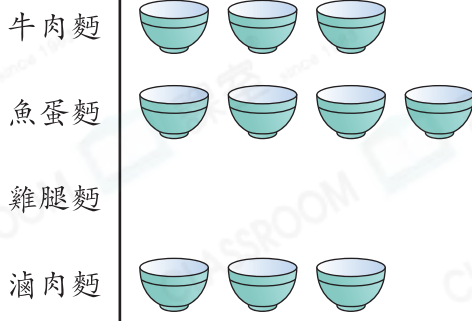
HKAT 經典試題

茶餐廳店員嘗試用右圖來表示昨天各款麵的銷量，但他忘了記錄雞腿麵的銷量。根據正確的銷售記錄，茶餐廳昨天平均每款麵售出 30 碗。那麼雞腿麵售出了多少碗？

- A. 1
B. 2
C. 10
D. 20

茶餐廳昨天各款麵的銷量


每個  代表 10 碗



Step

by

Step

- 統計圖中現有 10 個 ，即共有 100 碗麵。
- 茶餐廳昨天麵的總銷量是： $30 \times 4 = 120$ (碗)
- 雞腿麵售出了： $120 - 100 = 20$ (碗)

HKAT 題型特訓

1. 下列哪一組數的平均值是最小？

- A. 7.4, 63.9, 95.2
B. 52, 0, 45.4, $58\frac{3}{5}$
C. 24, 33, 66, 75
D. 49, 60.7, 82.9

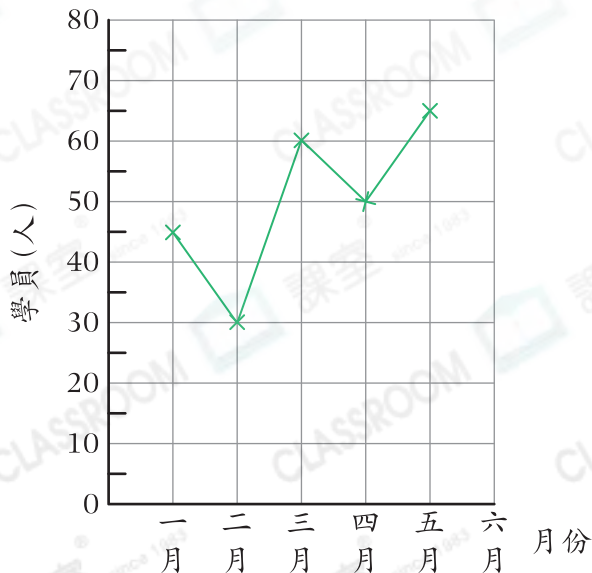
提示

將分數化為小數，並留意「0」也需當作其中一項。

2. 許老師嘗試用右圖來表示舞蹈教室上半年招收的學員，但她忘記標示六月的人數。如果招收學員最多的兩個月平均招收學員 70 人，則六月招收學員多少人？

- A. 75
B. 70
C. 65
D. 35

舞蹈教室上半年招收的學員



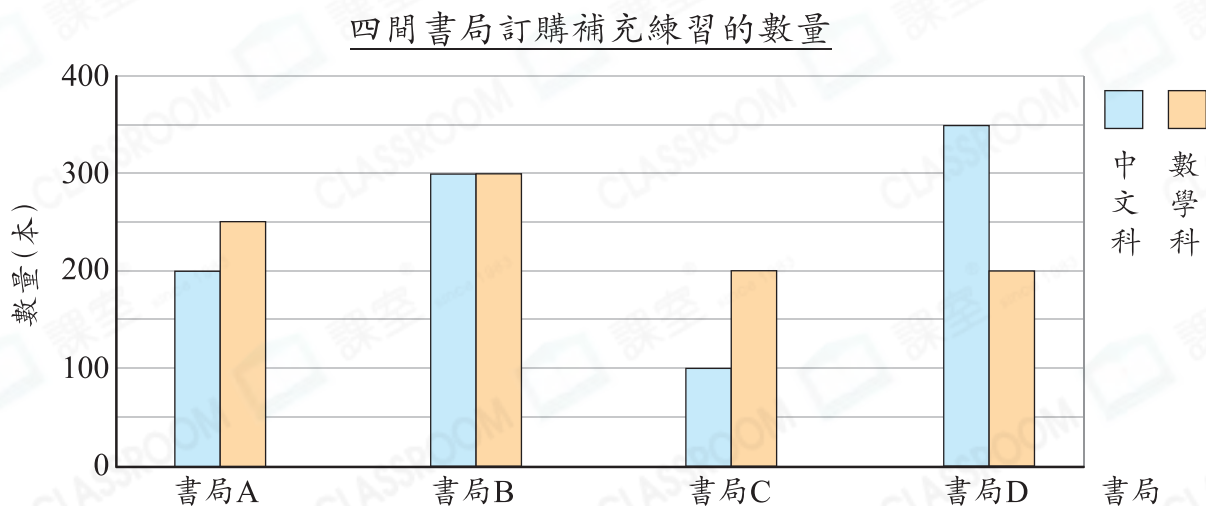
3. 棒球隊原有11名球員，他們的平均身高是188cm。俊傑加入球隊後，球員的平均身高是187cm。俊傑的身高是多少？
- A. 199cm B. 186cm C. 176cm D. 172cm

4. 超級市場昨天果醬的銷量



- 超級市場昨天售出最多的兩種果醬每瓶售價都是\$56，比其餘兩種果醬便宜了\$9。超級市場昨天售出果醬的總收入是多少？
- A. \$1113 B. \$1239 C. \$11130 D. \$12390

5. 下圖顯示四間書局訂購補充練習的數量。



- (a) 哪一間書局訂購補充練習的數量最多？共訂購了多少本？

答 書局 _____ 訂購補充練習的數量最多，共訂購了 _____ 本。

- (b) 某一間書局多訂購了100本中文科補充練習後，發現該書局訂購中文科補充練習的數量，由原先比數學科的少變為較多。在圖上畫出代表該書局補充練習新訂購數量的棒。