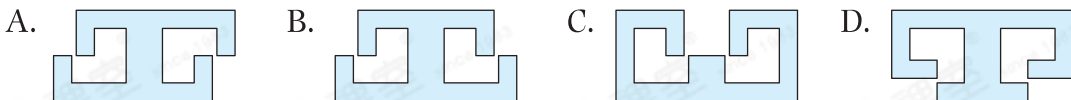


## HKAT 經典試題

右圖顯示一個軸對稱圖形的一部分，虛線是圖形的對稱軸，以下哪一個會是該軸對稱圖形？



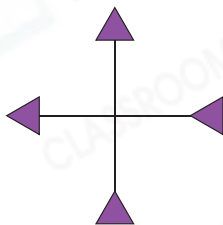
Step  
by  
Step

- 找出是對稱圖形的選項：B、C和D。
- 畫出對稱軸，然後觀察哪個對稱圖形的一半與題目中的圖相同。

## HKAT 題型特訓

1. 右圖最多可畫出多少條對稱軸？

- A. 0                      B. 1  
C. 2                      D. 4



易錯點

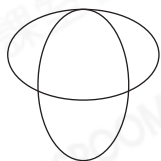
留意箭頭方向。

升級

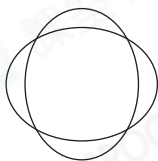
下列哪一個圖形有最多對稱軸？

- A. 正方形                      B. 長方形                      C. 等腰三角形                      D. 菱形

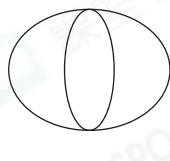
2. 以下是進入校徽設計決賽的學生作品。



美玉



子揚



夢玲



學生	數量(條)
美玉	
子揚	
夢玲	

(a) 三人的作品各有多少條對稱軸？把答案填入上面的表格中。

(b) 作品有最多對稱軸的學生獲得最佳設計獎。

(i) 在獲獎學生名字下面的空格內加上「✓」，

(ii) 在該學生的作品上畫出所有對稱軸。