

變式題特訓(二)



乘法

原題

慧敏購買了5袋青椒，共須付款多少？
(列式計算)



每袋 \$9

共須付款：

$$9 \times 5$$

$$9 \times 5 \\ = \$45$$

或

$$= 45$$

共須付款 \$45。

變式1

慧敏購買了5袋青椒，共有青椒多少個？
(列式計算)



每袋 \$9

共有青椒：

$$4 \times 5$$

$$4 \times 5 \\ = 20(\text{個})$$

或

$$= 20$$

共有青椒 20 個。

變式2

慧敏購買了5袋青椒，共須付款多少？
(列式計算)



買四袋
送一袋

每袋 \$9

共須付款：

$$9 \times 4$$

$$9 \times 4 \\ = \$36$$

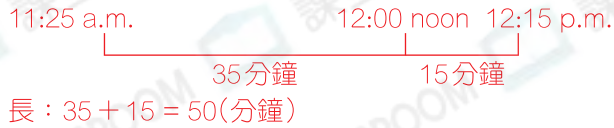
或

$$= 36$$

共須付款 \$36。



活動時間



原題

開始時間 11:25 a.m.

12:15 p.m. 結束時間

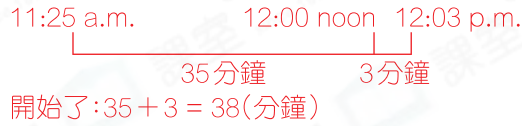
上圖是滑冰比賽的開始時間和結束時間。比賽長 50 分鐘。

變式1

開始時間 11:25 a.m.

12:15 p.m. 結束時間

上圖是滑冰比賽的開始時間和結束時間。現在是下午12時3分，比賽開始了 38 分鐘。



變式2

開始時間 11:25 a.m.

12:15 p.m. 結束時間

上圖是滑冰比賽的開始時間和結束時間。現在是下午12時3分，比賽還有 12 分鐘結束。

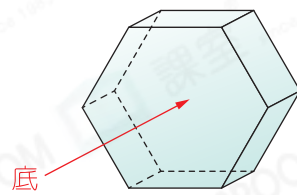


立體圖形

原題

右圖立體圖形的底是什麼形狀？

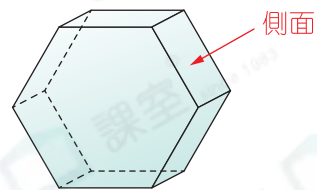
答案：六邊形



變式1

右圖立體圖形的側面是什麼形狀？

答案：四邊形



變式2

右圖立體圖形共有多少個面？

答案：8個

