

12 2、5、10的乘法

選擇題

選出正確的答案填入  內。

1. 以下哪一條算式的結果比 15 小？ A. 18 B. 25 C. 12 D. 20

A. 2×9

B. 5×5

C. 2×6

D. 10×2



2. 每盒筆有 10 枝，4 盒筆共有多少枝？ $10 \times 4 = 40$

A. 14 枝

B. 20 枝

C. 35 枝

D. 40 枝



應用題

3.



(附額外資料)

10 元

易錯警示

誤以為題目問 3 袋梨的售價。

下列哪一條算式表示 3 袋梨的總數量？

A. 10×3

B. 5×3

C. $10 + 3$

D. $5 + 3$



多元化題型

計算下列各題。

4.

$$\begin{array}{r} 2 \\ \times 4 \\ \hline \end{array}$$

5.

$$\begin{array}{r} 5 \\ \times 6 \\ \hline \end{array}$$

6.

$$\begin{array}{r} 10 \\ \times 7 \\ \hline \end{array}$$

7. $10 \times 9 =$ 90

8. $10 \times 10 =$ 100


完成下列各題。

9. 桌子上有5個瓶子，杯子的數量是瓶子的4倍，桌子上有杯子多少個？(列式計算)

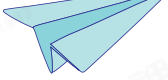
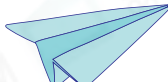
桌子上有瓶子：	5×4
5×4	或 $= 20$
$= 20$ (個)	桌子上有杯子20個。

10.

(附額外資料)



媽媽蒸了8碟餃子，即蒸了 40 隻餃子。一碟餃子有5隻，
8碟餃子有： $5 \times 8 = 40$ (隻)

11. 海信將所有  分給4個朋友，每個朋友可分得2隻，海信有 8 隻  。 $2 \times 4 = 8$

12. 早餐店每天營業5小時，它一星期共營業多少小時？(列式計算)
一星期有7天。

它一星期共營業：	5×7
5×7	或 $= 35$
$= 35$ (小時)	它一星期共營業35小時。

13.

硬幣	2元	5元	10元
數量(個)	10	8	3

根據上表，* 2元 / 5元 / 10元 硬幣的總值最多。

(* 圈出答案)

2元硬幣的總值： $2 \times 10 = 20$ (元)
5元硬幣的總值： $5 \times 8 = 40$ (元)
10元硬幣的總值： $10 \times 3 = 30$ (元)
 $20 < 30 < 40$

! 易錯警示

誤以為比較硬幣的數量。