

16 活動時間

選擇題

選出正確的答案填入  內。

1. 開始時間



9時30分

結束時間



9時57分

上圖表示時間過了多少分鐘？ 9時30分至9時57分，時間過了27分鐘。

- A. 57分鐘
- B. 30分鐘
- C. 27分鐘
- D. 17分鐘



2. 現在是 ，28分鐘後是幾時幾分？

- A. 上午5時30分
- B. 上午5時40分
- C. 下午5時30分
- D. 下午5時40分






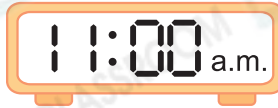
多元化題型

完成下列各題。



3. 下表是兩場比賽的開始時間和結束時間。

第一場用了35分鐘。
第二場用了30分鐘。

活動時間	開始時間	結束時間
第一場		
第二場		

第一場比第二場 * 多 / 少 (* 圈出答案) 用 5 分鐘。

