

9 銳角和鈍角



知識 e 解

選擇題

選出正確的答案填入  內。

1. 下列哪一個角是鈍角？

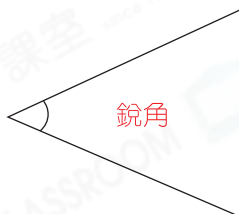
A.



B.



C.




D.



應試題

2.



上圖中，共有銳角多少個？

A. 1 個

B. 2 個

C. 3 個

D. 4 個

應試技巧

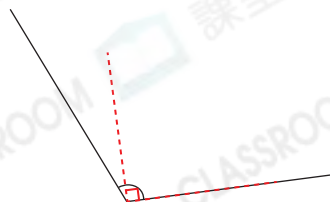
用有直角的物件去比對圖中的角，找出比直角小的角。



多元化題型

完成下列各題。

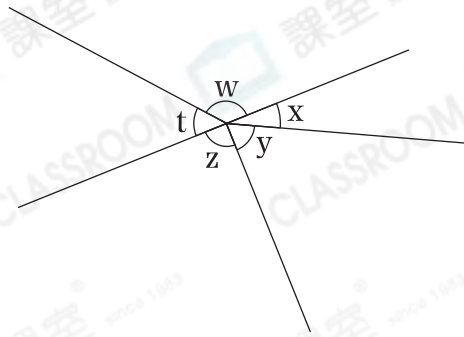
3.



鈍角比直角大。

上圖的角比直角 * 大 / 小 (* 圈出答案)，它是一個 鈍 角。

4.



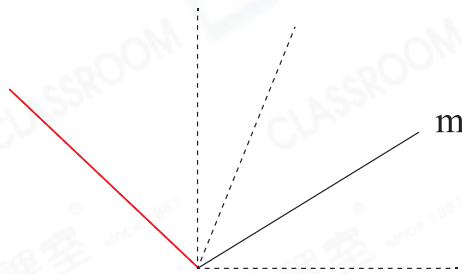
角 t 、 x 和 y 是銳角，角 w 是鈍角，角 z 是直角。

(a) 角 * t / w / x / y / z 是鈍角。（*圈出答案）

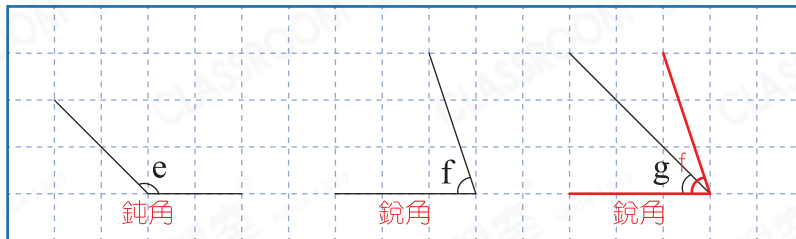
(b) 上圖中，哪種角的數量最多？ 銳角：3個，鈍角：1個，直角：1個。

答案： 銳 角

5. 沿虛線畫出一條直線，使它與直線 m 形成一個鈍角。



6.

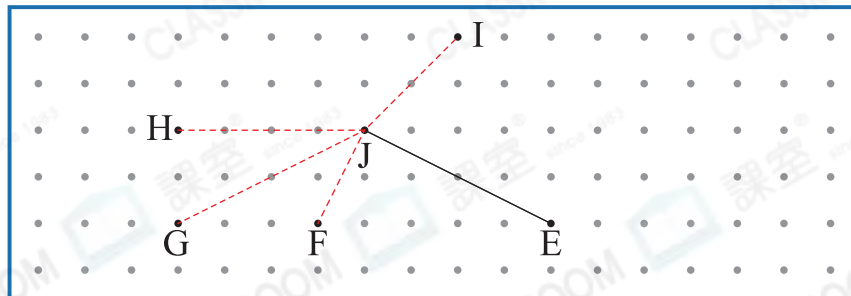


上圖中，角 f 是較大的銳角。

⚠ 易錯警示

留意關鍵字「銳角」。

7.



F：直角
G：鈍角
H：鈍角
I：銳角

用直線連接 J 點和哪一點後，可形成一個銳角？

答案： I 點

一題多解

解法一 逐一連接各點，找出銳角。

解法二 用直角尺輔助，銳角比直角小。