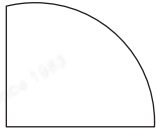


# 專項提優 - 攻克易錯題

## 提優課堂

例 1



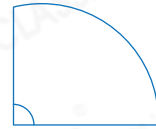
上圖中，共有角多少個？

✗ 答案： 3 個

✓ 答案： 1 個


錯點

誤以為直線和曲線相交會形成角。



避錯策略 留意兩條直線相交才會形成角。

例 2



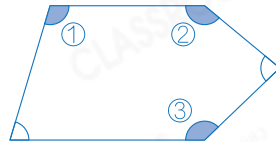
上圖中，共有鈍角多少個？

✗ 答案： 2 個

✓ 答案： 3 個

錯點

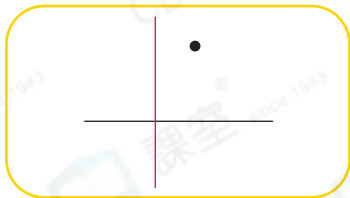
漏數部分鈍角。



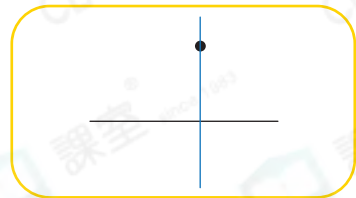
避錯策略 對於無法確定的角須用直角來輔助判斷。

例 3 經過黑點繪畫一條直線，使它與黑線相互垂直。

✗ 答案：



✓ 答案：



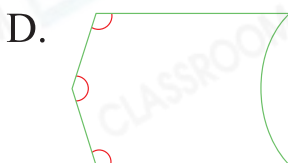
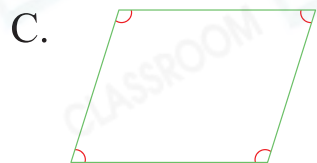
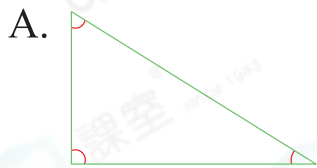
錯點

沒注意關鍵詞：經過黑點。

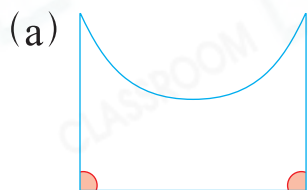
避錯策略 用直尺輔助畫圖，先將直尺調整至與直線垂直，且貼着黑點。

# 及時仿練

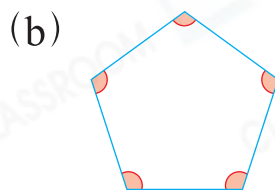
1. 以下哪一個圖沒有角？



2. 寫出以下各圖中角的數量。

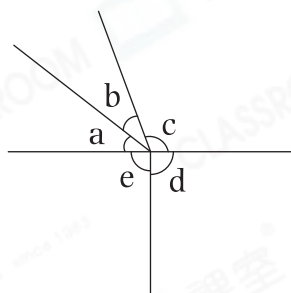


2 個



5 個

3.



銳角：角a，角b  
 鈍角：角c  
 直角：角d，角e

上圖中，銳角和鈍角各有多少個？

答案： 2 個銳角和 1 個鈍角

4. 在下圖中經過N點繪畫一條直線，使它與藍線相互垂直。

