

及時仿練

1.



上車



下車

上圖顯示國林上車和下車的時間，他乘車用了 35 分鐘。

9:39 p.m. 10:00 p.m. 10:14 p.m.

21分鐘 14分鐘

用了：21 + 14 = 35(分鐘)

2. 猜歌會在



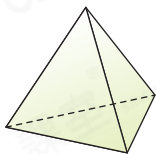
開始，25分鐘後結束，猜歌會在 3 時
時鐘顯示的時間是2時55分。

2時55分 $\xrightarrow{5\text{分鐘後}}$ 3時 $\xrightarrow{20\text{分鐘後}}$ 3時20分

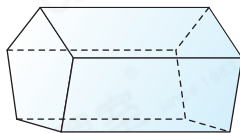
20 分結束。

3. 下列哪一個立體圖形的底是四邊形？

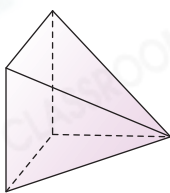
A.



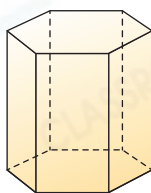
B.



C.



D.



- A. 底是三角形。
- B. 底是五邊形。
- C. 底是四邊形。
- D. 底是六邊形。



4. 以下是九月的月曆，但部分月曆被撕壞。

● 九月 ●						
日	一	二	三	四	五	六
8月30日	8月31日	1	2	3	4	5
6	7	8	9	10	11	12
13	14	15	16	17	18	19
20	21	22	23	24	25	26
27	28	29	30	10月1日		

(a) 麵包節一連舉行6天，由9月26日開始，最後一天是 10/10
月 1/1 日。

9月的最後一天是9月30日。

(b) 8月30日是星期 日 。 8月的最後一天是8月31日。