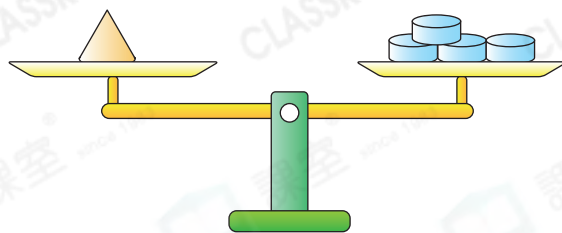
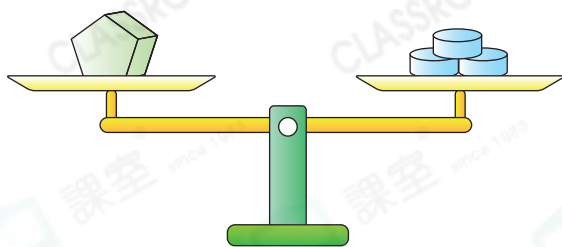




重量的認識

圖式



根據上圖，下列哪一項是正確的？

重3個 。

重4個 。

A. 和 的重量相同。

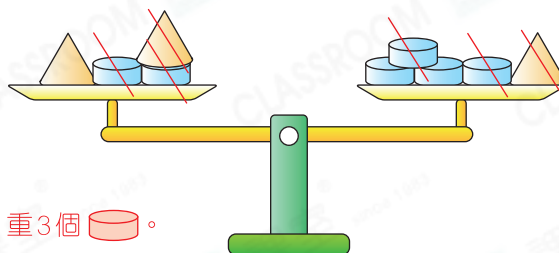
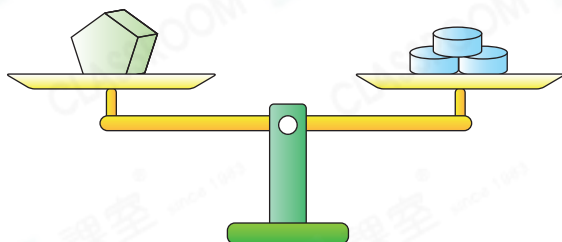
B. 無法比較 和 的重量。

C. 比 重。

D. 比 輕。



變式1



根據上圖，下列哪一項是正確的？

重3個 。

兩個盤各劃去1個 和2個 ，得：

重2個 。

A. 和 的重量相同。

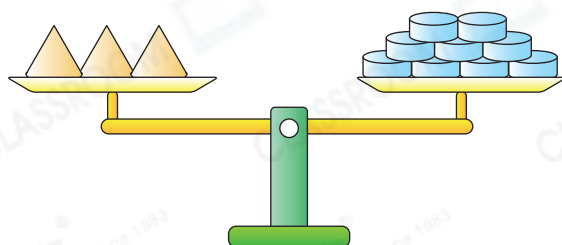
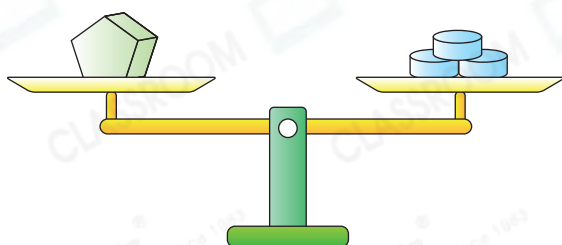
B. 無法比較 和 的重量。

C. 比 重。

D. 比 輕。



變式2



根據上圖，下列哪一項是正確的？

A. 和 的重量相同。

B. 無法比較 和 的重量。

C. 比 重。

D. 比 輕。



重3個 。

由3個 重9個 ，得： 重3個 。