

16 重量的認識

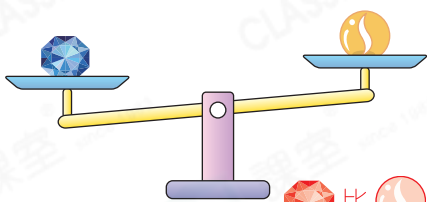
選擇題

選出正確的答案填入  內。

1. 下列哪一種物件最輕？



2.



 比  重。

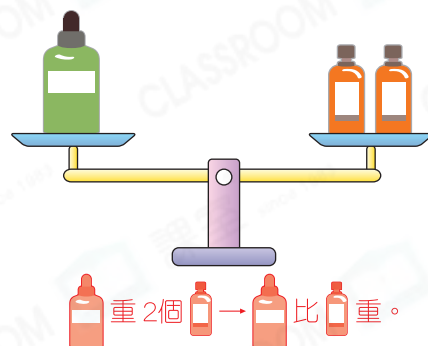
根據上圖，下列哪一項是正確的？

A.  比  輕。

B.  比  重。

C.  和  的重量相等。

D.  比  輕。



應試題

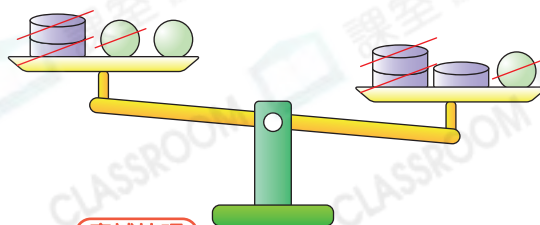
3. 下列哪一項是正確的？

A.  比  重。

B.  比  輕。

C.  和  的重量相等。

D. 無法比較  和  的重量。



應試技巧

先劃去天平兩個盤中相同的物件，再比較。



