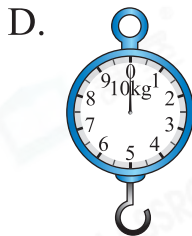
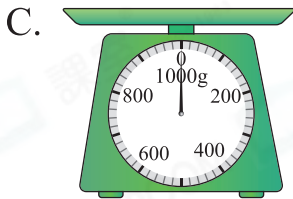

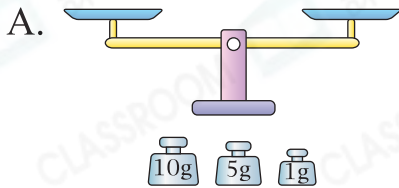


## 選擇題

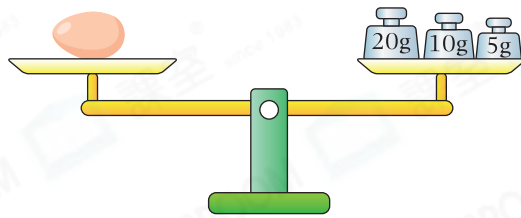
選出正確的答案填入  內。


1. 以下哪一種工具最適合用來量度一個蘋果的重量？

一般一個蘋果的重量約是 150g 至 300g 之間。



2.




 重多少？  $20 + 10 + 5 = 35$

- A. 15 克
- B. 25 克
- C. 30 克
- D. 35 克



3.  重多少？

- A. 440g
- B. 480g
- C. 500g
- D. 520g



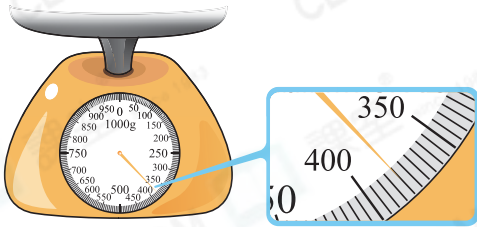
每小格代表 20g。  
西蘭花重 480g。




**多元化題型**

完成下列各題。


4.

上圖磅面顯示的重量是 380 g。每小格代表5g。  
指針指向380g。

5.



芒果重230g。

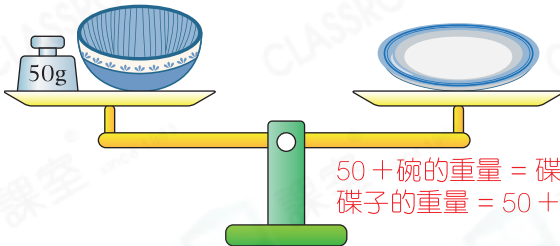

每小格代表： $200 \div 2 \div 5 = 20$ (g)

火龍果重240g。

 比  \* 重 / (輕) (\*圈出答案) 10 g。  $240 - 230 = 10$ 

**應試題**

6.



 $50 + \text{碗的重量} = \text{碟子的重量}$   
 $\text{碟子的重量} = 50 + 420 = 470$ 
 的重量是 470g/470克。(答案須寫上單位)


每小格代表：

 $100 \div 2 \div 5 = 10$ (g)

碗重420g。

7.



! 易錯警示

誤以2個杯子的總重量為答案。

1個  的重量是 75 g。每小格代表： $500 \div 5 \div 2 = 50$ (g)2個杯子共重： $50 \times 3 = 150$ (g)1個杯子重： $150 \div 2 = 75$ (g)