

18 公斤

選擇題

選出正確的答案填入  內。

1. 以下哪一個/些物件最適合用「公斤」作為度量單位？

I. 一袋米

II. 一包餅乾

III. 一箱水果



A. 只有 I

B. 只有 I 和 III

C. 只有 II 和 III

D. I、II 和 III



2. 下列哪一項表示的重量最輕？ $3\text{kg}60\text{g} = 3060\text{g}$ · $4\text{kg} = 4000\text{g}$
 $3060\text{g} < 3080\text{g} < 3800\text{g} < 4000\text{g}$

A. 3kg60g

B. 3080g

C. 3800g

D. 4kg




3. 右圖中， 的重量是多少？

A. 12kg

B. 8kg

C. 7kg

D. 6kg



4. 右圖中， 的重量是多少？

A. 1300g

$2\text{kg} = 2000\text{g}$
2000 等於 10 個 200，每小格代表 200g。
 $200 \times 8 = 1600$

B. 1600g

C. 1800g


D. 2200g




多元化題型

完成下列各題。

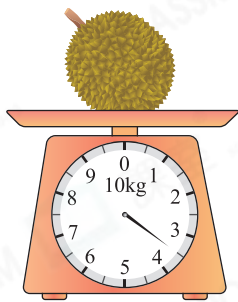
5.



女孩的體重是 28 kg，比男孩 * **重** / 輕 4 kg。

(* 圈出答案) 女孩重 28kg，男孩重 24kg。
女孩比男孩重：28 - 24 = 4(kg)

應試題
6.



的 重量 是 多少？ 1kg = 1000g，1000 等於 2 個 500，即每小格代表 500g。
榴槤重 3kg500g，即 3500g。

答案：3kg500g/3500g/ (答案須寫上單位)

3 公斤 500 克 / 3500 克

應試題
7.



的 重量 是 3200 g。

1kg = 1000g，1000 等於 5 個 200，即每小格代表 200g。
花瓶的重量 + 花盆的重量 = 4kg800g
花盆的重量 = 1kg600g
花瓶的重量 = 4kg800g - 1kg600g = 3kg200g = 3200g