

6 毫米

選擇題

選出正確的答案填入  內。

1. 以下哪一項最適合用「毫米」作長度的度量單位？

- A. 凳子的高度
- B. 大樓的高度
- C. 玻璃的厚度
- D. 汽車的長度

- A. 適合用「cm」作單位
- B. 適合用「m」作單位
- D. 適合用「m」作單位




2. 一個杯子的高度約是多少？

- A. 10mm
- B. 10cm
- C. 100cm
- D. 10m



3.



根據上圖，蠟筆的長度是多少？

- A. 6 厘米 4 毫米
- B. 6 厘米 6 毫米
- C. 7 厘米 4 毫米
- D. 7 厘米 6 毫米



多元化題型

完成下列各題。

4.



量度以上感謝卡的長度和闊度，在橫線上填答案。

日期

成績

應試題 5.

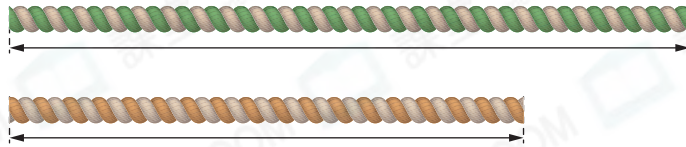


75 毫米 / 7 厘米 5 毫米

用直尺量度以上木棒的長度，它的長度是 75mm / 7cm5mm /。


(答案須寫上單位)

6.



用直尺量度以上兩條繩子的長度，長度相差 22 mm。
 $90 - 68 = 22$

7.



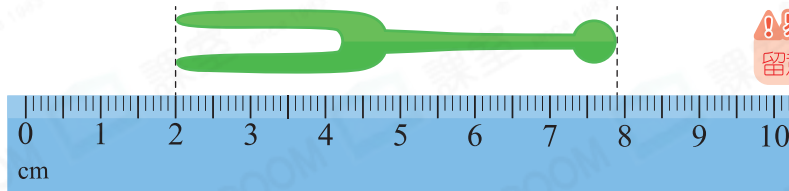
長 32mm。

飲管的長度是： $32 \times 6 = 192$

飲管的長度是  的 6 倍，飲管的長度是多少？

答案：192 mm

8.



易錯警示

留意不是從「0」開始量度。

以上水果叉的長度是 59 mm。

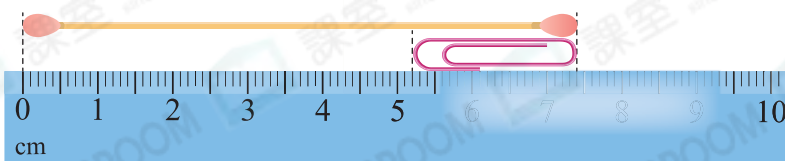
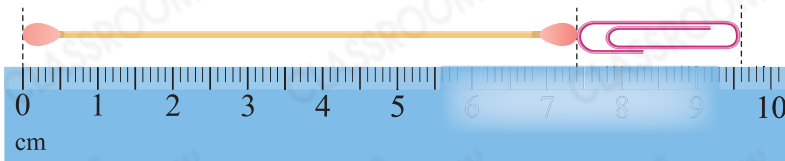
起始刻度是 2cm，即 20mm。

終點刻度是 7cm9mm，即 79mm。

$79 - 20 = 59$

思維跳一跳

9.



棉花棒長度 + 萬字夾長度

= 9cm6mm

棉花棒長度 - 萬字夾長度

= 5cm2mm

以上兩式相加：

棉花棒長度 + 棉花棒長度

= 14cm8mm

棉花棒長度

= $(14 \div 2)$ cm $(8 \div 2)$ mm

= 7cm4mm

根據上圖， 的長度是 7 cm 4 mm。