


# 8 秒和活動時間

## 選擇題


選出正確的答案填入  內。

1.

1時30分10秒



開始時間



結束時間

1時30分44秒

根據以上的時鐘，時間過了多少秒？ 1時30分10秒至1時30分44秒，時間過了34秒。

- A. 7 秒
- C. 35 秒

- B. 34 秒
- D. 44 秒



2. 演奏會持續了3小時，在  結束。演奏會在何時開始？

9時15分

- A. 6時15分
- C. 12時15分

- B. 6時46分
- D. 12時46分



## 多元化題型

完成下列各題。

3. (a)



4小時後



(b)

3 時 18 分

32分鐘後



3時50分

4. 以下電子秒錶和時鐘分別顯示子賢和欣悅背誦同一首古詩的用時。



\* 子賢 / 欣悅 (\*圈出答案)所用的時間較多。

5. 媽媽與爸爸在  結束通話，他們共通話50分鐘。那麼他

們在 上 午 8 時 40 分開始通話。

8:40 a.m. 9:00 a.m. 9:30 a.m.

20分鐘 30分鐘

6.

\* 李小姐的活動安排 \*

* 學習插花	1:45 p.m.	—	2:30 p.m.
* 下午茶	3:00 p.m.	—	5:00 p.m.
* 游泳	5:15 p.m.	—	6:10 p.m.

以上是李小姐下午的活動安排。

1:45 p.m. 2:00 p.m. 2:30 p.m.

15分鐘 30分鐘

15 + 30 = 45

(a) 李小姐學習插花的時長是 45 分鐘。

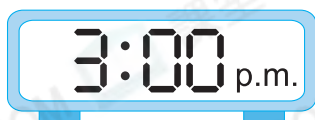
(b) 李小姐的下午茶時間長2小時，游泳用了55分鐘，在空格內填上適當的時間。

5:15 p.m. 6:00 p.m. 6:10 p.m.

45分鐘 10分鐘

7.

開始時間



結束時間

上圖數字鐘顯示原定的會議時間，實際提前45分鐘開始。會議實際在

下 午 2 時 15 分開始。原定開始時間是下午3時，45分鐘前是下午2時15分。