

方向



知識 e 解

選擇題

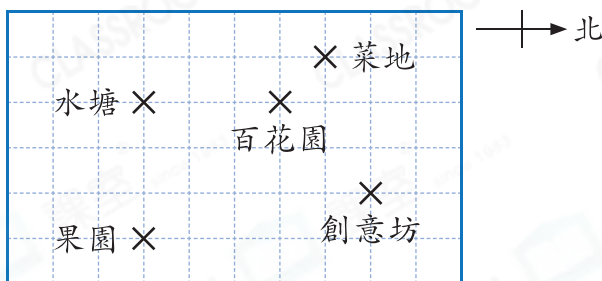
選出正確的答案填入  內。

1. 嘉豪面向西南方，他背向哪一方？

- A. 東方 B. 北方 C. 東北方 D. 東南方



2.



根據以上親子樂園的平面圖，哪個地方在百花園的西北方？

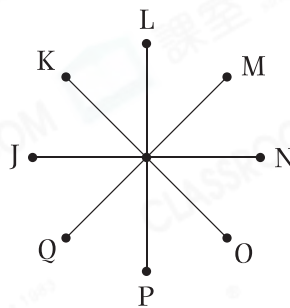
- A. 水塘 B. 菜地 C. 果園 D. 創意坊



HKAT

3. P在L的西南方，J在N的哪一方？

- A. 東方
B. 東北方
C. 西方
D. 西北方



HKAT

4.



上圖中，汽車正向東北方行駛，它在分岔路口左轉後，向哪一方行駛？

- A. 北方 B. 西北方
C. 西南方 D. 東南方

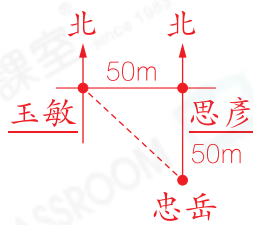


多元化題型

完成下列各題。

5. 思彥在玉敏的東方50m，忠岳在思彥的南方50m，所以玉敏在忠岳的哪一方？

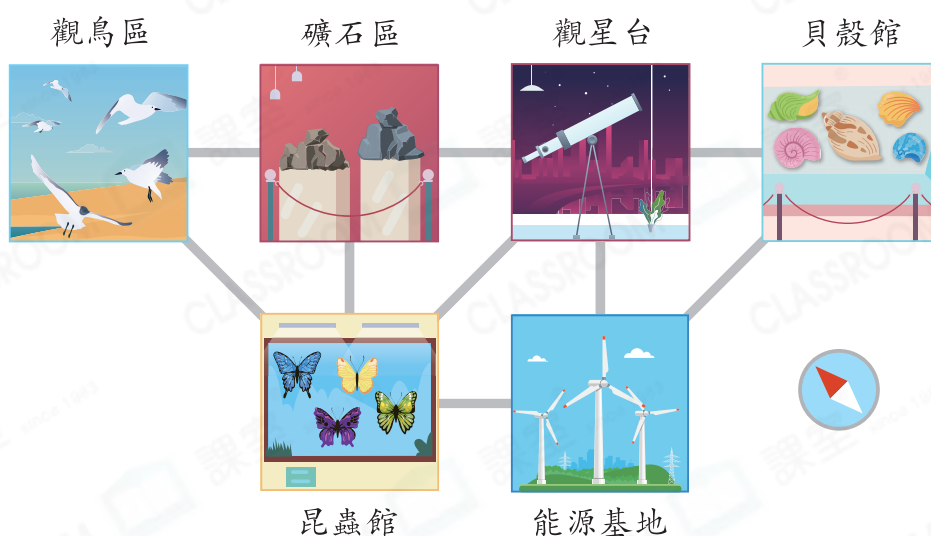
答案： 西北 方



應試技巧

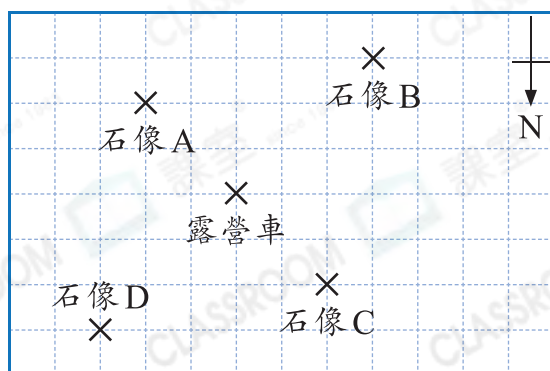
先畫出方向標示，然後畫出位置草圖，再判別。

6. 以下是自然教育中心的平面圖。



- (a) 昆蟲館在礦石區的 西南 方。
- (b) 觀星台 在觀鳥區的東南方，且在能源基地的東北方。
- (c) 從貝殼館向 西北 方走，到達觀星台後，向 西 方走，便可到達昆蟲館。

7.



一題多解

解法一	露營車在某石像的西南方，則該石像在露營車的東北方。D在露營車的東北方。
解法二	分別找出露營車在各石像的哪一方。 在A的西北方。 在B的東北方。 在C的東南方。 在D的西南方。

露營車在石像 * A / B / C / **(D)** (* 圈出答案) 的西南方。