

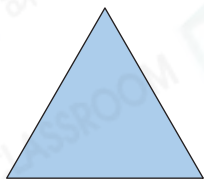
4 菱形

選擇題

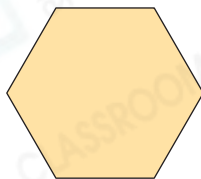
選出正確的答案填入  內。

1. 下列哪一個是菱形？

A.



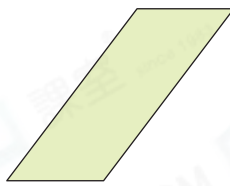
B.



C.



D.



2. 下列哪一項/些不是菱形的性質？

I. 對邊平行

II. 四邊長度相等

III. 四個角都是銳角

A. 只有 I

B. 只有 III

C. 只有 I 及 II

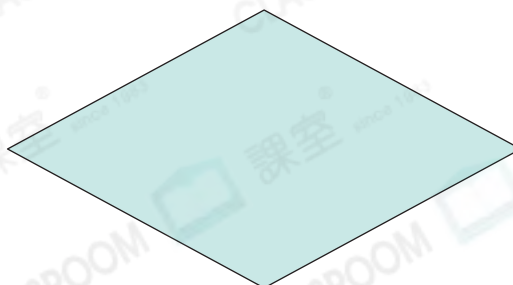
D. 只有 I 及 III



多元化題型

完成下列各題。

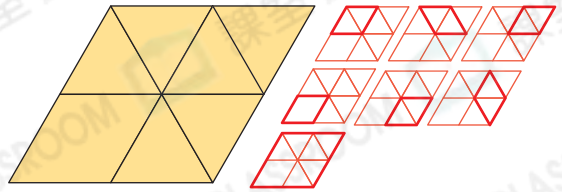
3.



觀察上面的平面圖形。這是一個 * 正方形 / 菱形 / 梯形 (* 圈出答案)，它有 2 組平行的對邊。

4. 右圖共可數出菱形多少個？

答案： 7 個



5.

 10cm

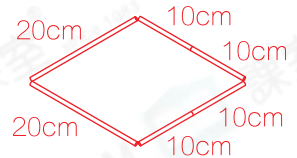
 10cm

 10cm

 10cm

 20cm

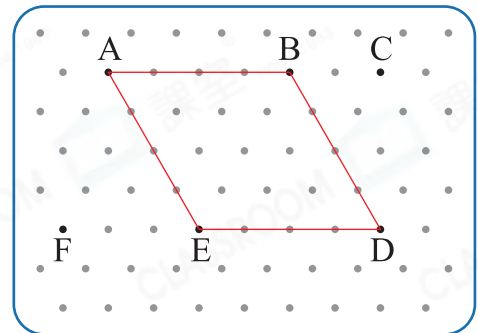
 20cm



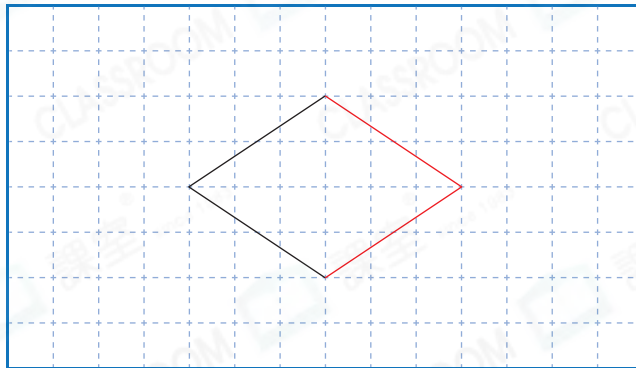
同時使用以上飲管，* 能 / 不能 (* 圈出答案) 拼成一個菱形。

6. 用橡皮圈在右面的釘板上圍出一個菱形，應選用哪四點？


答案： A 點， B 點，
D 點， E 點



7. 在下圖中加上兩條線段，與原有的線段組成一個四邊相等的四邊形。



8.



把一張長方形卡紙沿虛線對摺兩次，如上圖。在對摺後的卡紙上畫藍線，如下圖，沿圖 * 一 / 二 (* 圈出答案) 的藍線剪開可得到一個菱形。

