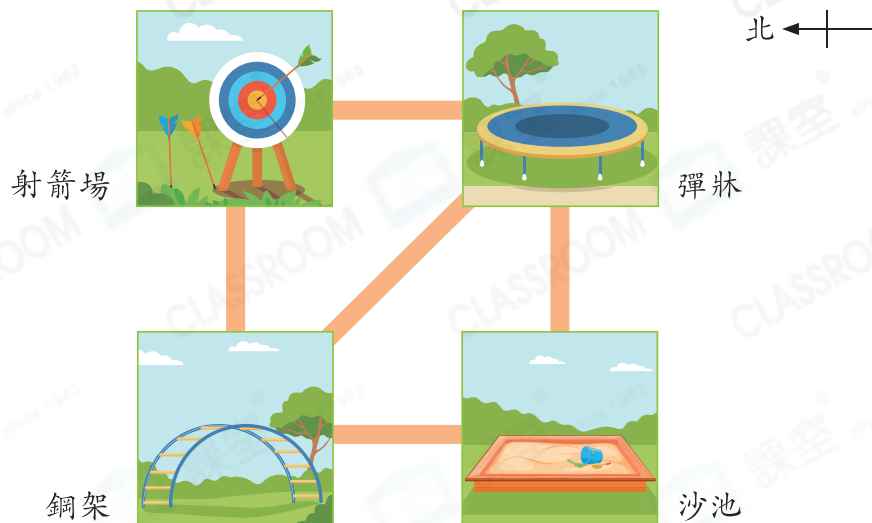


專項提優 - 攻克易錯題

提優課堂

例 1



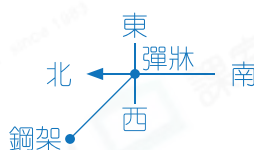
鋼架在彈牀的哪一方？

✗ 答案： 東南 方

✓ 答案： 西北 方

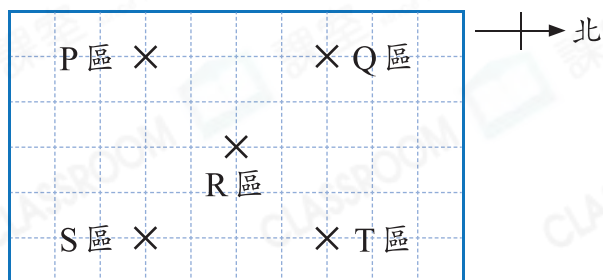
錯點

答題時將方向標示移到了錯誤的地點。



避錯策略 作答「A在B的哪一方」時，先將方向標示移到「在」字後的地點，再作答。

例 2



上圖中，R區在哪一個區的東南方？

✗ 答案： S 區

✓ 答案： Q 區

錯點

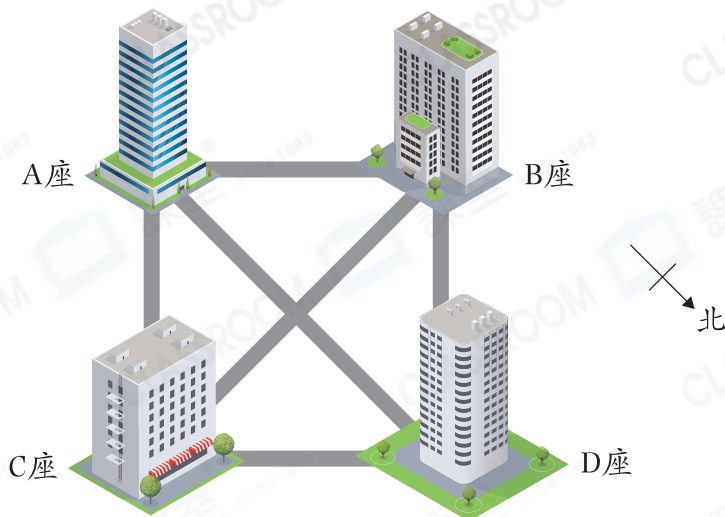
誤以為找出R區的東南方。



避錯策略 在方向標示上標出「東南」方，再移動標示，使「東南」指向R區，便得出答案。

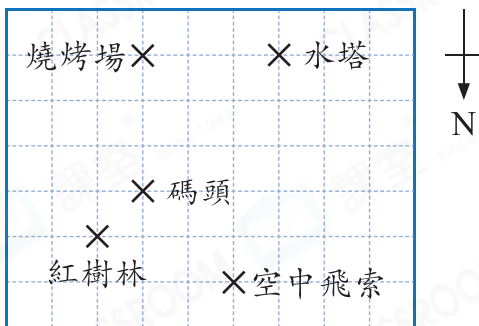
及時仿練

1.



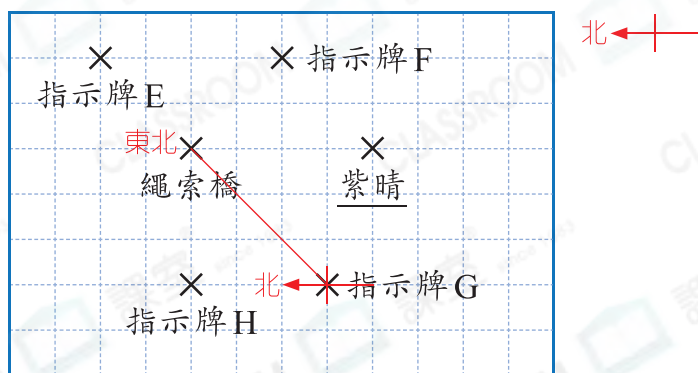
根據上圖，C座在D座的東南方。

2.



文輝在碼頭，他想去玩空中飛索，他應向西北方走，路程才是最短的。

3.



紫晴向北方出發，到達繩索橋後，她在地圖中哪一個指示牌的東北方？

- A. 指示牌E
- B. 指示牌F
- C. 指示牌G
- D. 指示牌H

