

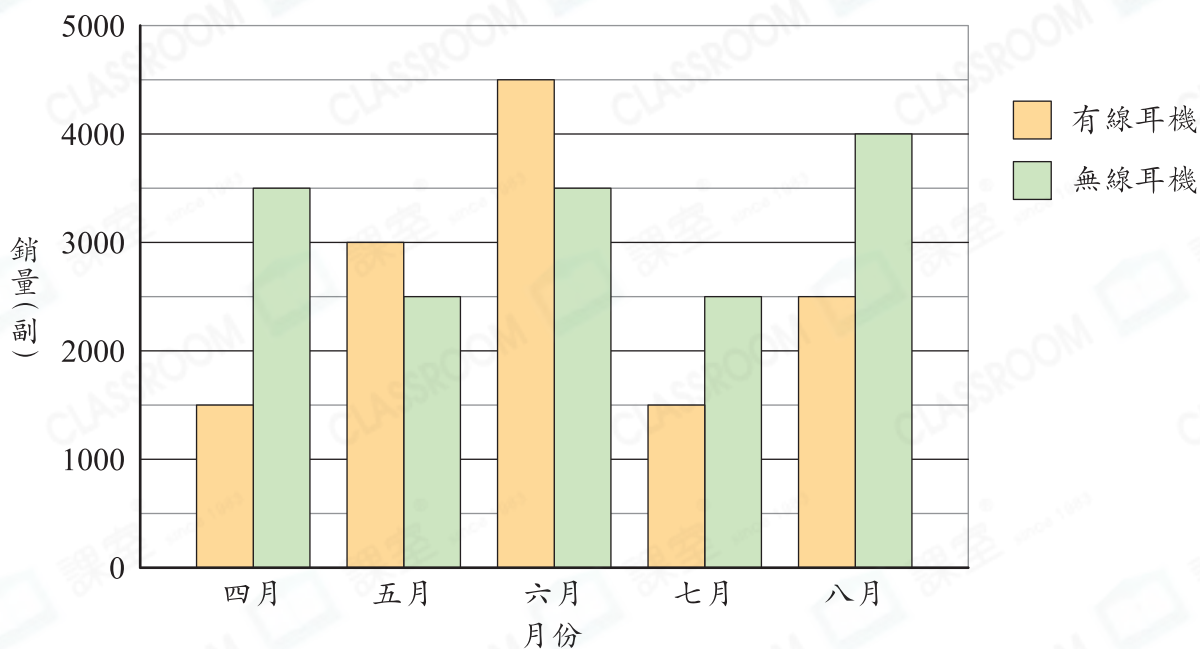
# 17 複合棒形圖(一)

## 選擇題

選出正確的答案填入  內。

下圖顯示電器城過去五個月耳機的銷量。

電器城過去五個月耳機的銷量



1. 哪個月售出的無線耳機最多？

- A. 五月 (2500副)      B. 六月 (3500副)      C. 七月 (2500副)      D. 八月 (4000副)



2. 五月有線耳機和無線耳機的銷量相差多少副？  $3000 - 2500 = 500$

- A. 500副      B. 1000副  
C. 1500副      D. 2000副



3. 哪兩個月有線耳機的銷量相同？

- A. 四月和六月      B. 四月和七月 都是 1500副。  
C. 五月和七月      D. 六月和八月



4. 哪一個月耳機的總銷量剛好是七月的2倍？

- A. 四月 (四月：1500 + 3500 = 5000(副)      B. 五月  
五月：3000 + 2500 = 5500(副)  
C. 六月 (六月：4500 + 3500 = 8000(副)      D. 八月  
八月：2500 + 4000 = 6500(副)

一題多解

解 計算格子的數量。七月的2倍即  
法  $8 \times 2 = 16$ (格)，四月10格，五月  
一 11格，六月16格，八月13格。

解 計算出實際的總銷量。  
法 七月總銷量的2倍：  
二  $(1500 + 2500) \times 2 = 8000$ (副)

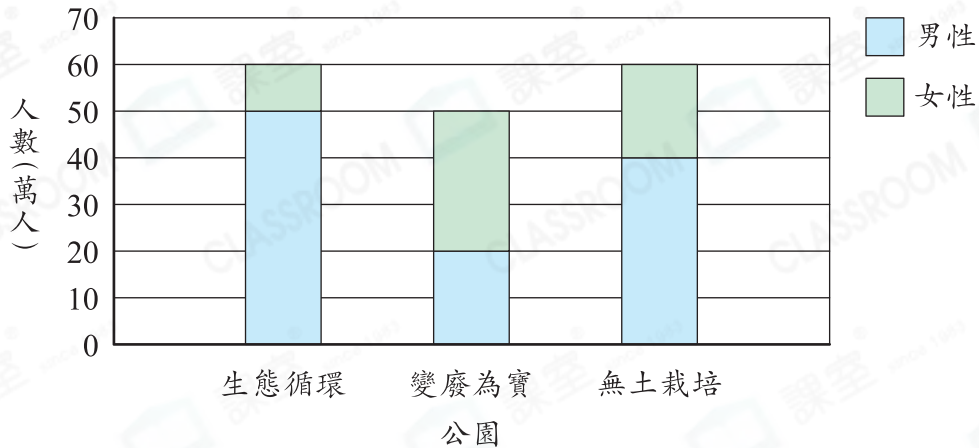


## 多元化題型

完成下列各題。

5.

三個公園上半年的入場人數



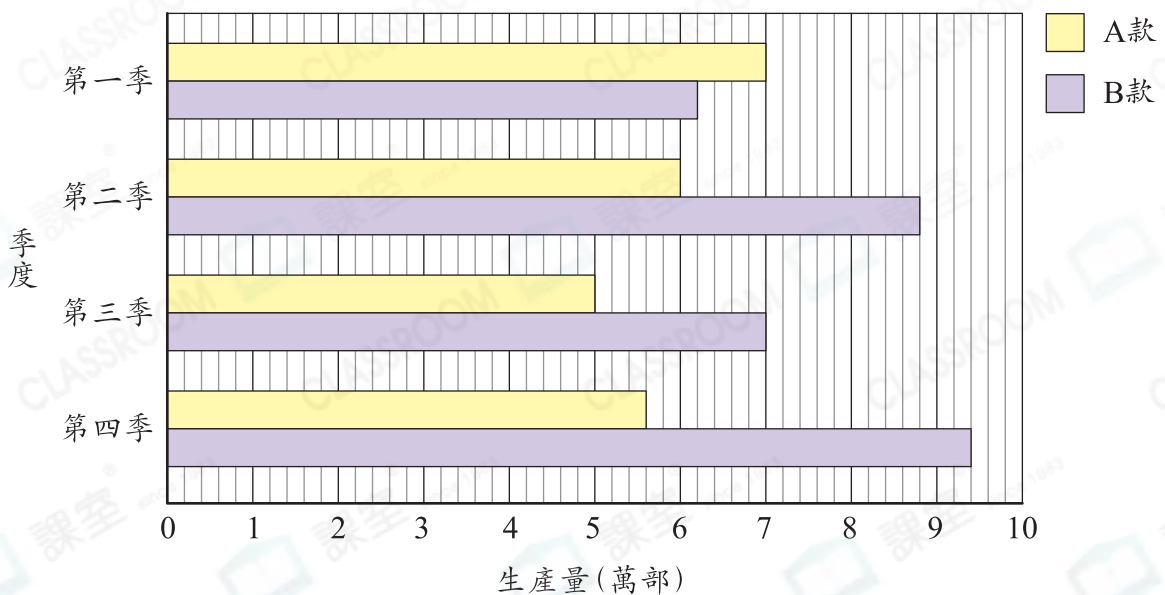
上圖顯示三個公園上半年的入場人數。

(a) 變廢為寶公園的男性入場人數比女性少 10 萬人。 $30 - 20 = 10$

(b) 三個公園的女性總入場人數是 60 萬人。 $10 + 30 + 20 = 60$

6.

工廠去年兩款手機的生產量



上圖顯示工廠去年兩款手機的生產量。

(a) 第二季B款手機的生產量是 88 000 部。  
 第一季：70 000 + 62 000 = 132 000 (部)  
 第二季：60 000 + 88 000 = 148 000 (部)  
 第三季：50 000 + 70 000 = 120 000 (部)  
 第四季：56 000 + 94 000 = 150 000 (部)

(b) 第 四 季這兩款手機的總生產量最多，總生產量是 150 000 部。