

7 三角形和四邊形的高



知識 e 解

選擇題

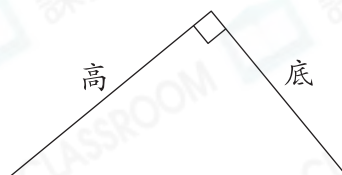
選出正確的答案填入  內。

1. 以下哪個三角形的底和對應的高是正確的？

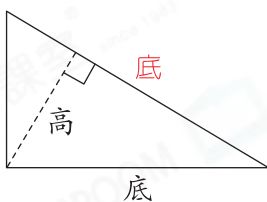
A.



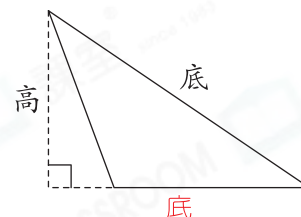
B.



C.

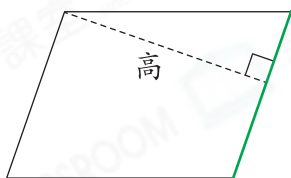


D.



2. 以下哪個圖形把綠線對應的高畫錯了？

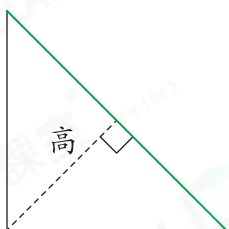
A.



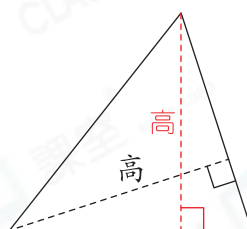
B.



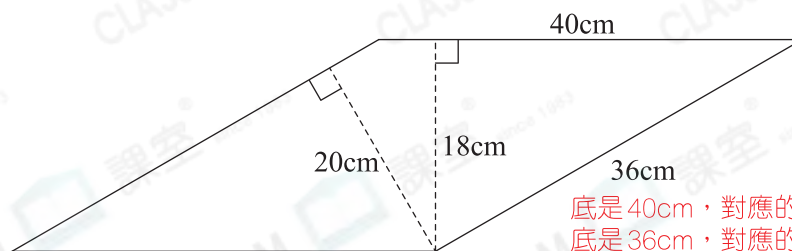
C.



D.



3.



底是 40cm，對應的高是 18cm。
底是 36cm，對應的高是 20cm。

在以上平行四邊形中，高為 18cm，對應的底是多少？

A. 40cm

B. 36cm

C. 20cm

D. 18cm



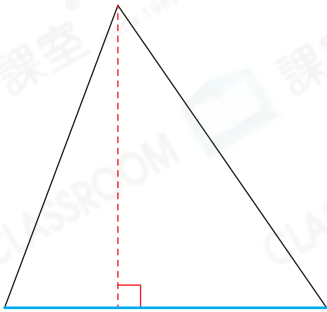


多元化題型

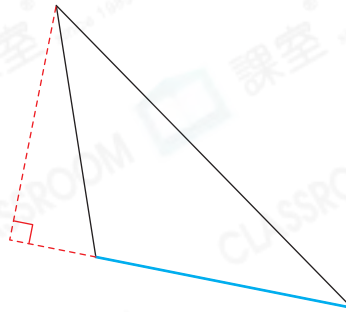
完成下列各題。

4. 在以下各三角形中，畫出藍線對應的高。

(a)

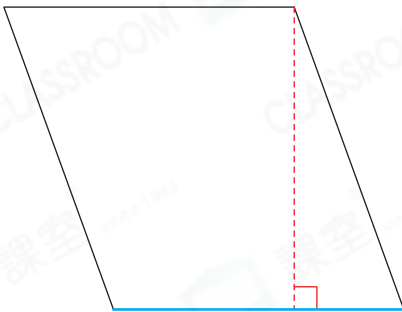


(b)

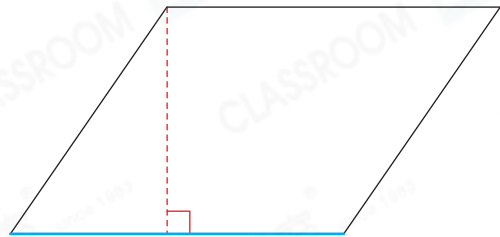


5. 在以下各四邊形中，畫出藍線對應的高。

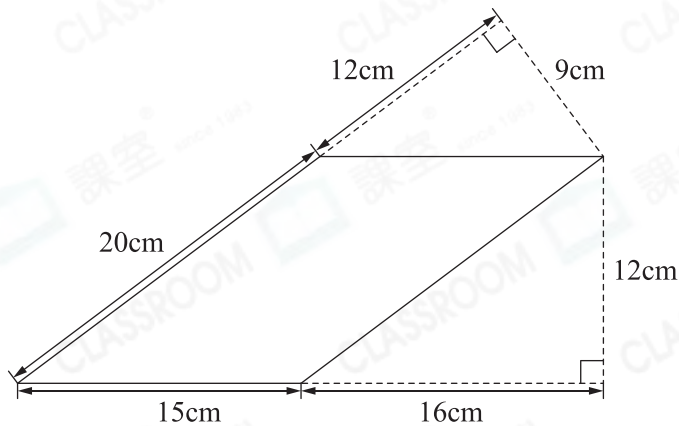
(a)



(b)



6.



上圖是一個平行四邊形，分別寫出這個平行四邊形兩組不同的底和對應的高的長度。

答案一：底是 20 cm，高是 9 cm。

答案二：底是 15 cm，高是 12 cm。