

HONG KONG ATTAINMENT TEST

香港學科測驗

Pre-Secondary One Mathematics Mock Paper 4

中一入學前數學科模擬試卷(四)

Answer Sheet

答題紙

Name of Student

學生姓名：_____ (中文)

Class

班別：_____ ()

Section A (60 marks) You only need to write down the letter preceding the selected answer.
(2 marks each)

甲部(60分) 學生只須填上所選答案前的英文字母。(每題2分)

1.	11.	21.
2.	12.	22.
3.	13.	23.
4.	14.	24.
5.	15.	25.
6.	16.	26.
7.	17.	27.
8.	18.	28.
9.	19.	29.
10.	20.	30.

For Teacher's Use
供教師用

		Number 數	Shape & Space 圖形與空間	Measures 度量	Data Handling 數據處理	Algebra 代數
Section A 甲部	Item 題目	1-14	15-20	21-27	28	29-30
	Marks 分數					
Section B 乙部	31(a)					
	31(b)					
	32					
	33(a)					
	33(b)					
	34(a)					
	34(b)					
	35					
	36(a)					
	36(b)					
36(c)						
(Sections A + B) Total (甲部及乙部) 合計						
Grand Total 總計						



Section B (40 marks)

Working steps must be shown in answering questions in this section unless specified otherwise.

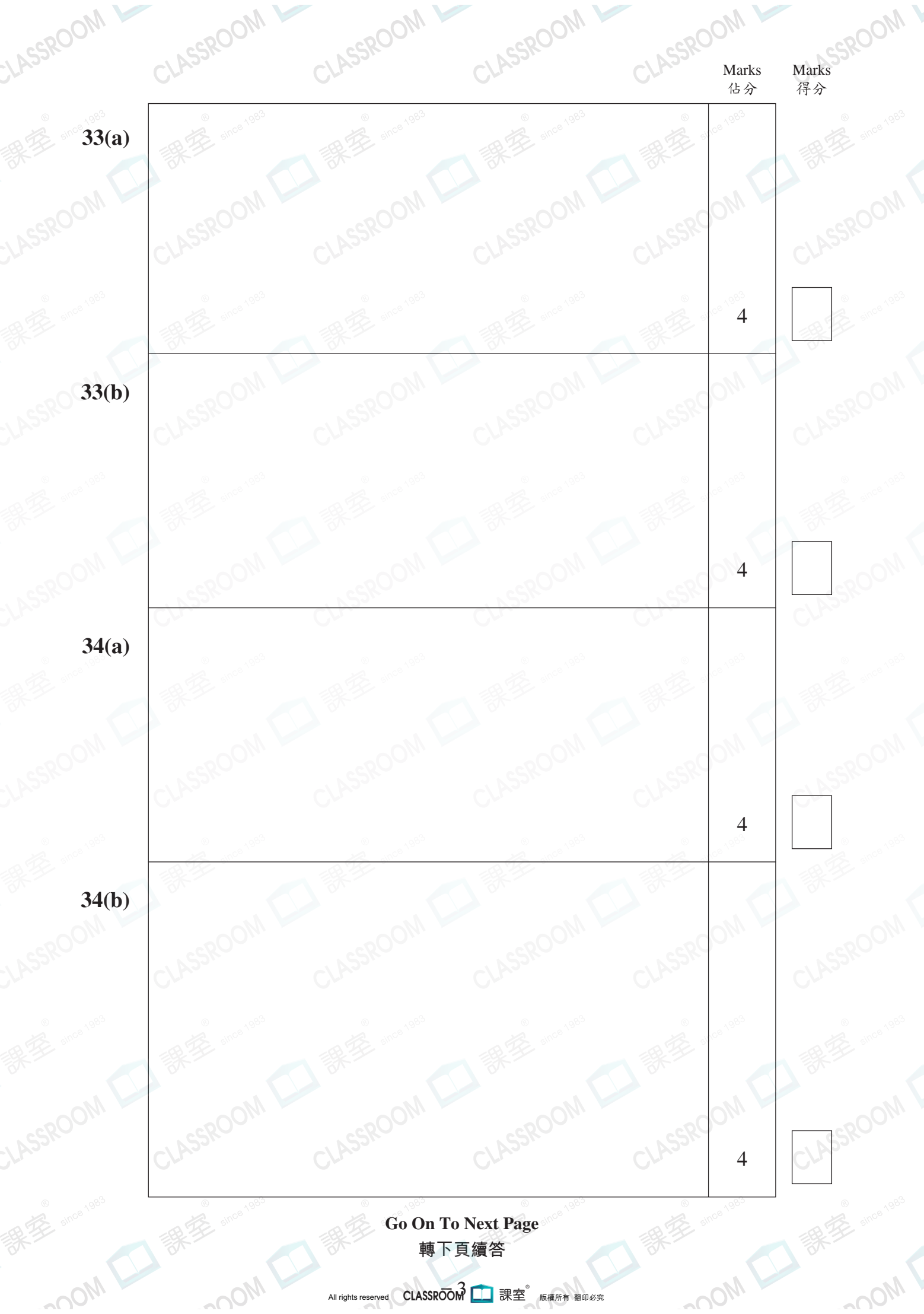
乙部(40分)

除特別指明外，在回答本部問題時，須列出計算步驟。

		Marks 估分	Marks 得分
31(a)		4	<input type="text"/>
31(b)	Because 因為		
	* can / cannot (* Circle the answer) * 能 / 不能 (* 圈出答案)	3	<input type="text"/>
32		4	<input type="text"/>

Go On To Next Page

轉下頁續答



Marks
估分

Marks
得分

33(a)

4

33(b)

4

34(a)

4

34(b)

4

Go On To Next Page

轉下頁續答

Marks
估分

Marks
得分

35

4

36(a)

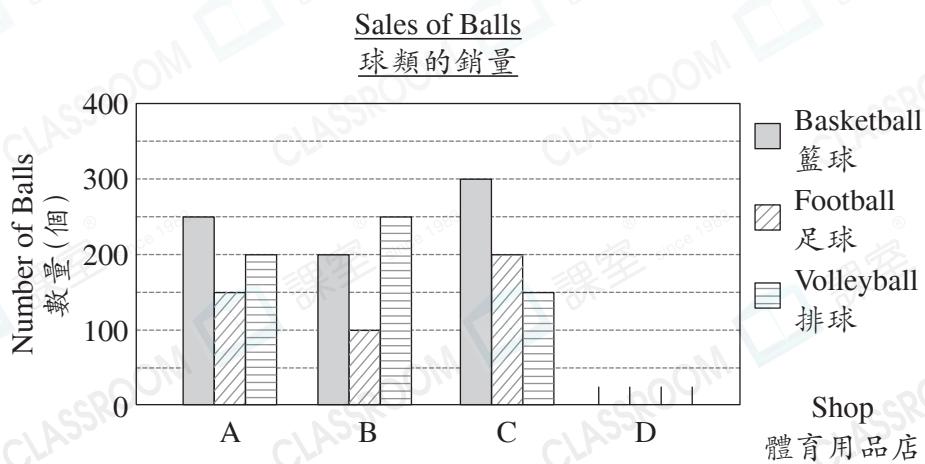
Shop _____ sold the greatest number of balls,
體育用品店 _____ 售出球的數量最多，
_____ balls were sold altogether.
共售出 _____ 個。

2

36(b)

4

36(c)



3

END

完

HONG KONG ATTAINMENT TEST

香港學科測驗

Pre-Secondary One Mathematics Mock Paper 5

中一入學前數學科模擬試卷(五)

Answer Sheet

答題紙

Name of Student

學生姓名：_____ (中文)

Class

班別：_____ ()

Section A (60 marks) You only need to write down the letter preceding the selected answer.
(2 marks each)

甲部(60分)

學生只須填上所選答案前的英文字母。(每題2分)

1.		11.		21.	
2.		12.		22.	
3.		13.		23.	
4.		14.		24.	
5.		15.		25.	
6.		16.		26.	
7.		17.		27.	
8.		18.		28.	
9.		19.		29.	
10.		20.		30.	

For Teacher's Use

供教師用

		Number 數	Shape & Space 圖形與空間	Measures 度量	Data Handling 數據處理	Algebra 代數
Section A 甲部	Item 題目	1-14	15-19	20-26	27-28	29-30
	Marks 分數					
Section B 乙部	31(a)					
	31(b)					
	31(c)					
	32(a)					
	32(b)					
	32(c)					
	33(a)					
	33(b)					
	34(a)					
	34(b)					
	35(a)					
	35(b)					
	36(a)					
36(b)						
36(c)						
(Sections A+B) Total (甲部及乙部) 合計						
Grand Total 總計						



Section B (40 marks)

Working steps must be shown in answering questions in this section unless specified otherwise.

乙部(40分)

除特別指明外，在回答本部問題時，須列出計算步驟。

		Marks 估分	Marks 得分
31(a)		2	<input type="text"/>
31(b)		4	<input type="text"/>
31(c)	<p>The fraction was _____ .</p> <p>佔整個抹茶蛋糕的 _____ 。</p>	2	<input type="text"/>
32(a)	<p>The Orchard is in the _____ of the Exit.</p> <p>果園在出口的 _____ 方。</p>	2	<input type="text"/>
32(b)	<p>There were _____ litchi trees in fruit.</p> <p>結果的荔枝樹共有 _____ 棵。</p>	2	<input type="text"/>

Go On To Next Page

轉下頁續答

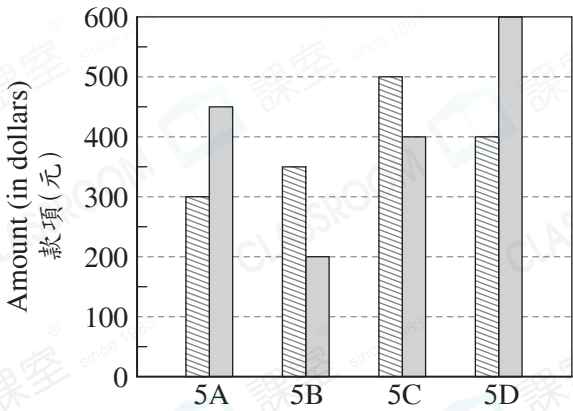
		Marks 佔分	Marks 得分
32(c)	g of fertilizer is needed. 共需要肥料 _____ g。	2	<input type="text"/>
33(a)		4	<input type="text"/>
33(b)	Because 因為		
	* agree / disagree (* Circle the answer) * 同意 / 不同意 (* 圈出答案)	4	<input type="text"/>
34(a)	The perimeter of the stage was _____ m. 舞台的周界是 _____ m。	2	<input type="text"/>
34(b)		4	<input type="text"/>

Go On To Next Page

轉下頁續答

Marks
估分

Marks
得分

<p>35(a)</p>	<p>The greatest possible number of people joining the trip was _____.</p> <p>這次旅行最多可有_____人參加。</p>	<p>2</p>	<input type="text"/>															
<p>35(b)</p>		<p>4</p>	<input type="text"/>															
<p>36(a)</p>	<p>Class _____ has the difference of \$100 in amounts raised between the boys and the girls.</p> <p>_____班男生和女生籌得的款項相差\$100。</p>	<p>2</p>	<input type="text"/>															
<p>36(b)</p>	<p>The total amount raised by Primary 5 students is \$ _____.</p> <p>五年級學生共籌得款項\$_____。</p>	<p>2</p>	<input type="text"/>															
<p>36(c)</p>	<p style="text-align: center;"><u>Amount Raised by Primary 5 Students</u> <u>五年級學生籌得的款項</u></p>  <table border="1" style="margin-left: auto; margin-right: auto;"> <caption>Data from Bar Chart</caption> <thead> <tr> <th>Class</th> <th>Boys (Hatched)</th> <th>Girls (Solid Grey)</th> </tr> </thead> <tbody> <tr> <td>5A</td> <td>300</td> <td>450</td> </tr> <tr> <td>5B</td> <td>350</td> <td>200</td> </tr> <tr> <td>5C</td> <td>500</td> <td>400</td> </tr> <tr> <td>5D</td> <td>400</td> <td>600</td> </tr> </tbody> </table>	Class	Boys (Hatched)	Girls (Solid Grey)	5A	300	450	5B	350	200	5C	500	400	5D	400	600	<p>2</p>	<input type="text"/>
Class	Boys (Hatched)	Girls (Solid Grey)																
5A	300	450																
5B	350	200																
5C	500	400																
5D	400	600																

END
完

HONG KONG ATTAINMENT TEST

香港學科測驗

Pre-Secondary One Mathematics Mock Paper 6

中一入學前數學科模擬試卷(六)

Answer Sheet

答題紙

Name of Student

學生姓名：_____ (中文)

Class

班別：_____ ()

Section A (60 marks) You only need to write down the letter preceding the selected answer.
(2 marks each)

甲部(60分)

學生只須填上所選答案前的英文字母。(每題2分)

1.		11.		21.	
2.		12.		22.	
3.		13.		23.	
4.		14.		24.	
5.		15.		25.	
6.		16.		26.	
7.		17.		27.	
8.		18.		28.	
9.		19.		29.	
10.		20.		30.	

For Teacher's Use

供教師用

		Number 數	Shape & Space 圖形與空間	Measures 度量	Data Handling 數據處理	Algebra 代數
Section A 甲部	Item 題目	1-14	15-18	19-25	26-27	28-30
	Marks 分數					
Section B 乙部	31(a)					
	31(b)					
	32(a)					
	32(b)					
	32(c)					
	33(a)					
	33(b)					
	34(a)					
	34(b)					
	35					
	36(a)					
	36(b)					
	37(a)					
37(b)						
(Sections A+B) Total (甲部及乙部) 合計						
Grand Total 總計						



Section B (40 marks)

Working steps must be shown in answering questions in this section unless specified otherwise.


乙部(40分)

除特別指明外，在回答本部問題時，須列出計算步驟。

		Marks 估分	Marks 得分
31(a)		4	<input type="text"/>
31(b)	The cost for installing the handrail is \$ _____ . 安裝費用是\$ _____ 。	2	<input type="text"/>
32(a)	The Art World was in the _____ of the Washroom. 藝術天地在洗手間的_____方。	2	<input type="text"/>
32(b)		4	<input type="text"/>
32(c)	The fair got \$ _____ from the admission fees when corrected to the nearest ten thousand dollars. 書展的入場費收入取近似值至萬位應是\$ _____ 。	2	<input type="text"/>

Go On To Next Page

轉下頁續答

		Marks 估分	Marks 得分
33(a)	The fraction is 表演節目及佈置場地的義工共佔全部義工的_____。	2	<input type="text"/>
33(b)	volunteers would keep order. 維持秩序的義工有_____人。	2	<input type="text"/>
34(a)		2	<input type="text"/>
34(b)		4	<input type="text"/>
35		4	<input type="text"/>

Go On To Next Page

轉下頁續答

		Marks 佔分	Marks 得分
36(a)	She should pay \$ _____ . 她應付款 \$ _____ 。	2	<input type="text"/>
36(b)		4	<input type="text"/>
37(a)	The total income was \$ _____ on Monday. 星期一的總收入是 \$ _____ 。	2	<input type="text"/>
37(b)	Because 因為		
	* agree / disagree (* Circle the answer) * 同意 / 不同意 (* 圈出答案)	4	<input type="text"/>

END

完